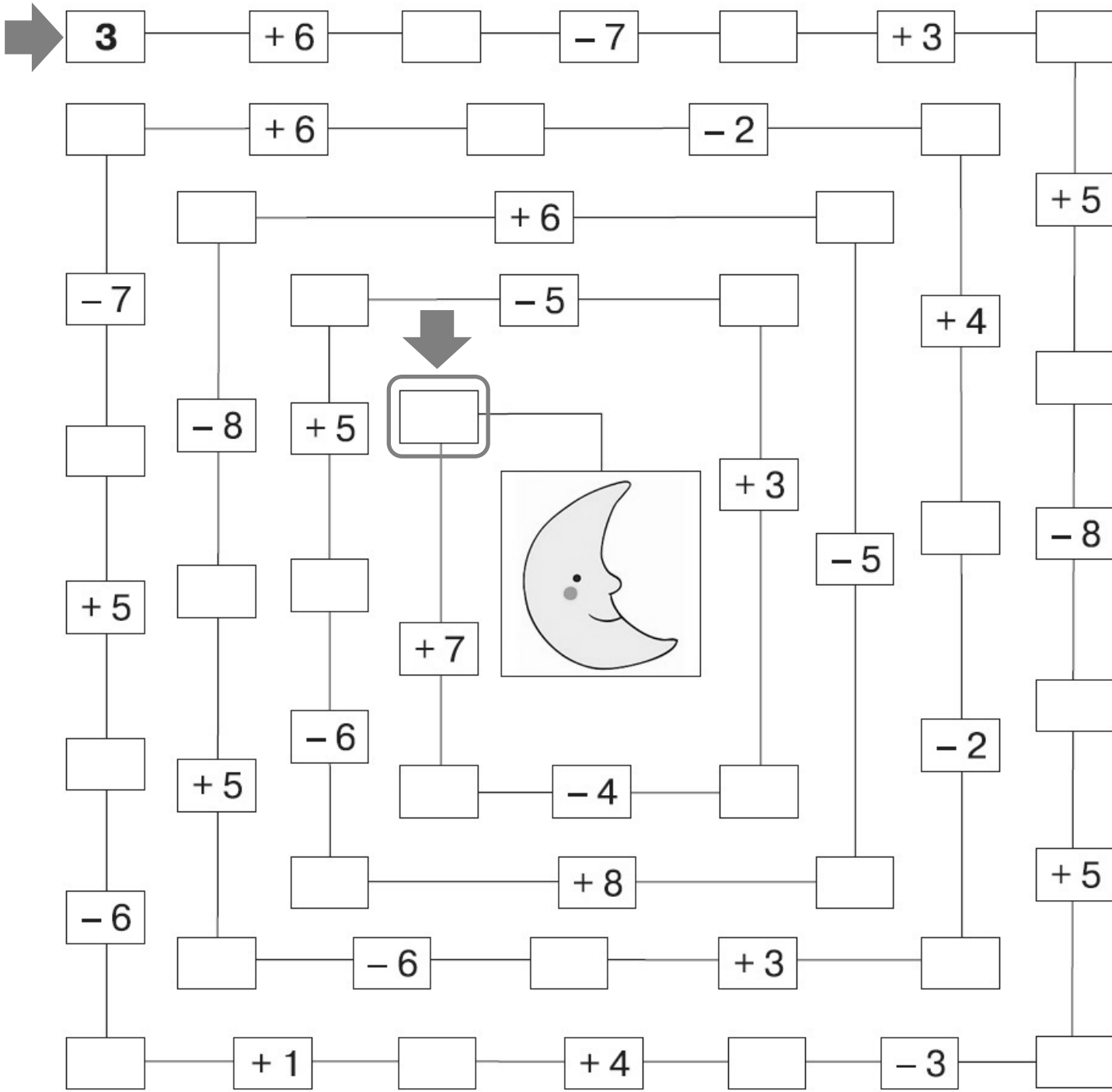




Calcula cuantos días tardará el cohete en llegar a la Luna.



NOMBRE: \_\_\_\_\_

FECHA: \_\_\_\_\_

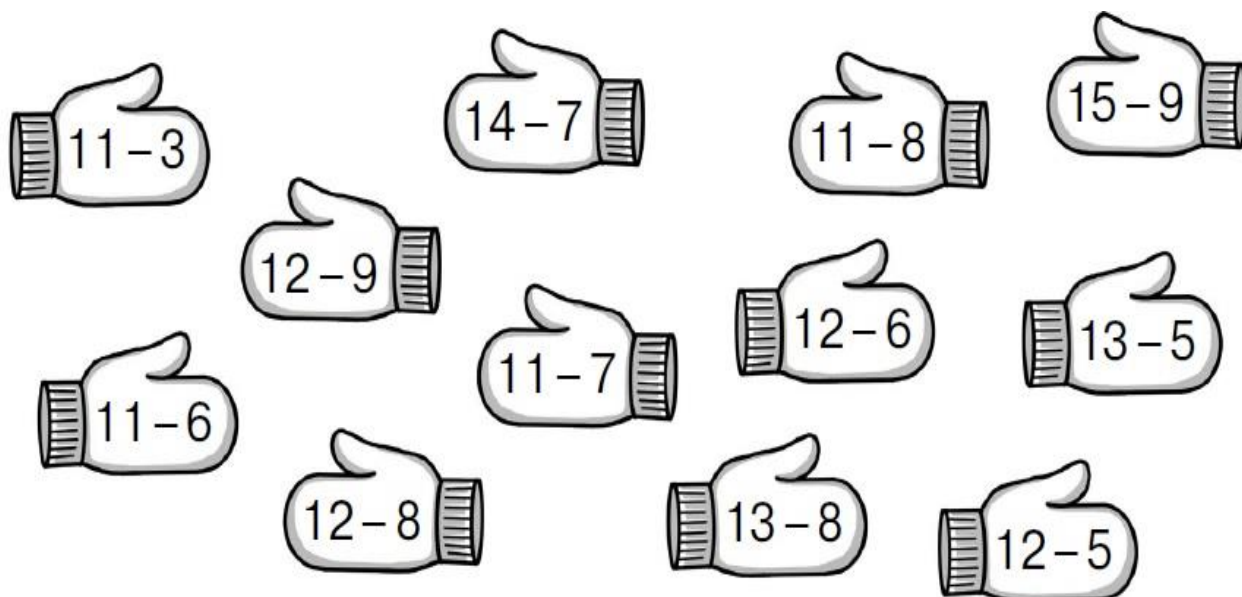
Suma y resta.



$2 + 5 =$	$3 + 7 =$	$7 - 4 =$	$2 + 7 =$	$6 + 4 =$
$9 - 4 =$	$2 + 6 =$	$4 + 5 =$	$8 - 3 =$	$7 - 3 =$
$7 + 2 =$	$9 - 8 =$	$7 - 5 =$	$4 + 3 =$	$3 + 6 =$
$9 - 6 =$	$7 + 3 =$	$3 + 4 =$	$6 - 3 =$	$8 - 4 =$
$4 + 4 =$	$10 - 6 =$	$6 - 4 =$	$5 + 2 =$	$2 + 5 =$
$10 - 5 =$	$8 + 2 =$	$10 - 7 =$	$7 - 6 =$	$4 + 7 =$

$8 + 2 =$	$7 + 3 =$	$5 + 4 =$	$3 + 3 =$	$7 + 2 =$
$7 + 2 =$	$6 - 3 =$	$6 + 4 =$	$5 + 4 =$	$6 - 1 =$
$5 - 2 =$	$3 + 4 =$	$10 - 4 =$	$7 - 1 =$	$4 + 4 =$
$2 + 5 =$	$9 - 3 =$	$4 + 5 =$	$6 + 2 =$	$5 - 2 =$
$8 - 2 =$	$5 + 3 =$	$5 + 5 =$	$4 - 2 =$	$1 + 8 =$
$2 + 3 =$	$3 + 6 =$	$4 + 6 =$	$2 + 7 =$	$8 - 2 =$


Resuelve y colorea del mismo color los guantes con igual resultado.



NOMBRE: \_\_\_\_\_

FECHA: \_\_\_\_\_

- 1) Resuelve empezando por las flechas.
- 2) Suma las cantidades que se indican.



● 1)

	↓	↓	↓	↓	↓				
→	7	-	1	=		+		=	9
	-		+		-		+		-
→		+	2	=	4	-		=	3
	=		=		=		=		=
→	5	-		=	2	+		=	
	+		-		+		+		-
→	4	+		=		-	2	=	4
	=		=		=		=		=
→		-	1	=		-	6	=	

● 2)

+ 3

44 →

25 →

61 →

76 →

- 5

69 →

85 →

97 →

78 →

	↓	↓	↓	↓	↓				
→	8	-	5	=		+		=	8
	-		+		+		-		-
→		-	1	=	5	-		=	1
	=		=		=		=		=
→	2	+		=	8	-		=	
	+		-		-		+		+
→	4	+		=		-	5	=	1
	=		=		=		=		=
→		-	4	=		+	6	=	

+ 30

44 →

25 →

61 →

76 →

- 50

69 →

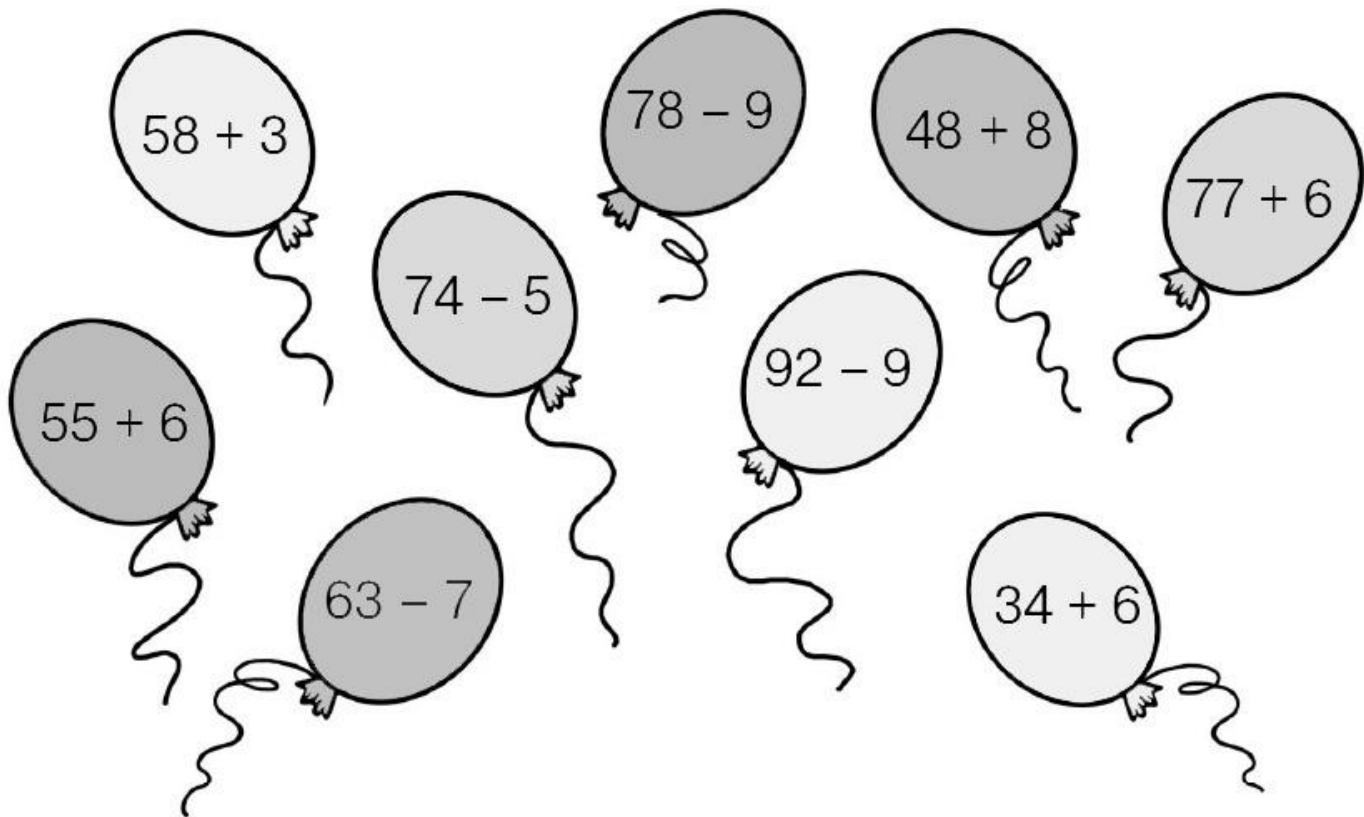
85 →

97 →

78 →

¿De quién es cada globo?

Relaciona cada operación con su resultado.



Escribe las operaciones.

5	<input type="text" value="+2"/>	▶	7	<input type="text"/>	▶	8	<input type="text"/>	▶	10	<input type="text"/>	▶	11	<input type="text"/>	▶	13
12	<input type="text" value="+1"/>	▶	13	<input type="text"/>	▶	15	<input type="text"/>	▶	17	<input type="text"/>	▶	18	<input type="text"/>	▶	20
23	<input type="text" value="+5"/>	▶	28	<input type="text"/>	▶	32	<input type="text"/>	▶	36	<input type="text"/>	▶	41	<input type="text"/>	▶	45
34	<input type="text" value="+6"/>	▶	40	<input type="text"/>	▶	45	<input type="text"/>	▶	51	<input type="text"/>	▶	55	<input type="text"/>	▶	60

NOMBRE: \_\_\_\_\_

FECHA: \_\_\_\_\_

Calcula y escribe los resultados.

